


桃園市立草漯國民中學 113 學年度第二學期第三次段考八年級社會科試題卷

班級： 座號： 姓名：

1. ____中共推行改革開放政策後，除了經濟快速成長，也帶來了哪種現象？(A)國營事業迅速發展，中共成為世界工廠
(B)物價持續上漲，導致貧富差距擴大 (C)帶動民主政治改革，打破共產專政 (D)土地改革成功，使全國共同富有
2. ____中日抗戰後，國民政府面對國內通貨膨脹嚴重之際，共產黨以「平分土地」為號召，來吸引下層階級的民眾，加以戰後中共又在哪一個國家的大力支援下，實力與國民政府已不相上下？(A)蘇聯 (B)美國 (C)英國 (D)日本
3. ____一九八〇年代的「經濟特區」設立的地點集中在右圖的哪一個區域？
(A)甲 (B)乙 (C)丙 (D)丁
4. ____南韓領導人文在寅在南韓光復 74 週年發表演說，盼在 2045 年迎接光復 100 年時，讓一個和平統一的韓國(one korea)屹立世界之林。關於文在寅演說的說明何者正確？ (A)分裂戰爭始於 1945 年 (B)兩韓是因為一戰而分裂 (C)南韓是一個共產主義國家 (D)光復是指脫離日本殖民
5. ____兩岸關係自西元 1949 年以來歷經不同階段，以及不同的領導人。請問：當臺灣解嚴時，當時的中共領導人是由哪一位來擔任？ (A)鄧小平 (B)江澤民 (C)胡錦濤 (D)習近平
6. ____2016 年，行政院公布新南向政策推動計畫，未來將與東協、南亞等地區的十八個國家創造互利與共贏模式。以下哪一面向並不包括在其中？ (A)經貿合作 (B)人才交流 (C)資源共享 (D)政治結盟
7. ____最近怡真在網路上看見一則新聞標題：「英駐中使館 po「坦克人」動畫！ 微博官方火速刪除」請問這應該與哪事件有關？ (A)五四運動 (B)文化大革命 (C)三月學運 (D)六四天安門
8. ____承上題，請問這位以肉身阻擋坦克車的年輕人代表中國大陸民眾追求何者的縮影？ (A)國家主權 (B)政治民主 (C)教育改革 (D)共產經濟
9. ____美國的一個夜間政論性節目正在討論關於越戰的始末，下列參與節目的四位來賓中，何人的敘述是正確的？ (A)喬希：「越南原為荷蘭的殖民地。」
(B)孟希：「1954 年後，越南以北緯 25 度線分裂為南、北越。」 (C)子恩：「當時美國國內的反戰氣氛濃厚。」 (D)羽恩：「越戰結束後，南越占領北越，越南成為共產國家。」
10. ____1954 年，美國某位國務卿召開記者會，宣告即將與中華民國外交部部長簽約，是要讓兩國未來的共同軍事合作，能有長期正式條約作為依據。請問：該約最可能為下列何者？ (A)開羅宣言 (B)臺灣關係法 (C)雅爾達密約 (D)中美共同防禦條約
11. ____君衍正在整理課本所說的國際組織的特點，如右圖，表中哪些項目整理正確？ (A)甲乙丙 (B)乙丙丁 (C)甲丙丁 (D)甲乙丁
12. ____中國於 1970 年代末推動的改革開放政策，帶動經濟快速成長，但是卻加深區域發展失衡現象。下列關於中國的新聞報導，何者最能反映中國區域發展不均的現象？ (A)南方近年降雨減少，旱象環生，南水北調將威脅南方用水的供應量 (B)今年出現的多起沙塵暴，已直接威脅北京、上海及南京等大都市 (C)農曆春節將湧現數億人次返鄉人潮，堪稱地表最大規模的人口移動 (D)推動海上絲路計畫，發展從中國沿海港口經印度洋至歐洲的航線
13. ____美國《時代雜誌》曾刊載一張照片，是西元 1971 年美國桌球協會到中國參訪時在長城所留下的合影。在協會訪華期間，美國總統也宣布一系列對華開禁的措施，隔年中國桌球隊亦回訪美國，媒體稱兩方為「乒乓外交」，下列相關的敘述，何者正確？ (A)「乒乓外交」由蘇聯主導 (B)當時美國總統是尼克森，曾訪問中國 (C)這年美國與中華民國斷交 (D)美國拉攏中國的目的主要是為制衡北韓



	東南亞公約組織	東南亞國家協會
甲：會旗		
乙：目的	圍堵共產勢力的擴張	東南亞國家的區域統合
丙：開始時間	冷戰期間	冷戰期間
丁：結束時間	~ 迄今	1977 年解散

● 題組一：閱讀資料後，回答下列問題：

資料一：這場爆發於 1950 年的「統一戰爭」，期間拆散超過七百萬人的家庭，許多人在戰爭期間逃往南方，而自 1953 年起，交戰雙方切斷一切郵件、電話和旅遊等，直到 2000 年，一場歷史性高峰會議後，才有一千二百個家庭經歷悲喜交集的短暫團聚；另還有超過十萬個家庭列在等候名單中。」

資料二：西元 1953 年，位於□□半島的戰爭結束，一萬四千多名被俘中共官兵選擇『自由臺灣』；隔年 1 月 23 日在聯合國的安排下，一萬四千多名中共官兵投奔臺灣；日後便將 1 月 23 日定為『自由日』。

14. ____從兩份資料內容分析，可以判斷這場名為「統一戰爭」的戰役是？ (A)八二三炮戰 (B)越戰 (C)韓戰 (D)第二次世界大戰

15. 關於資料中的這場戰爭，下列敘述何者正確？ (A)聯合國曾派兵援助南方的政權 (B)雙方後來停戰，以北緯度 17 度線為分界線，至今仍然分裂 (C)北方為民主政權，南方為共產政權 (D)中共以「抗美援朝」為名，派志願軍支援北方胡志明軍作戰

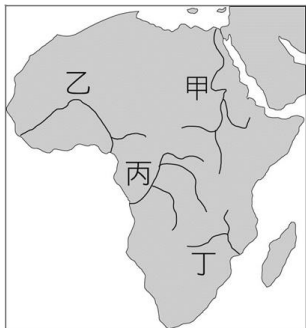
● 題組二：請觀察右方的宣傳海報之後，回答下列問題：

16. 請依據圖上的資訊判斷：本圖最可能繪於下列哪個年代？ (A)1920 年 (B)1930 年 (C)1950 年 (D)2000 年

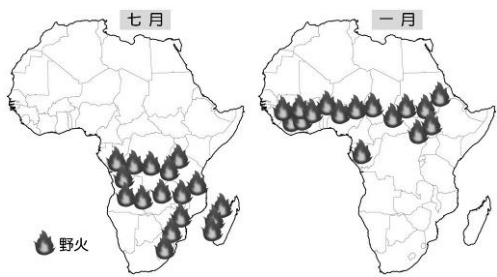
17. 圖中的 U.S.S.R. 是蘇聯的縮寫。請問：甲與乙各代表了哪個勢力？ (A)甲：蘇聯盟邦；乙：蘇聯聯合國 (B)甲：美國與其盟邦；乙：蘇聯與其盟邦 (C)甲：美國與其盟邦；乙：中華人民共和國與其盟邦不結盟運動 (D)甲：中華民國與其盟邦；乙：中華人民共和國與其盟邦



18. 附圖甲為尼羅河。在亞斯文高壩興建前，尼羅河會在夏季定期氾濫，根據附圖判斷，尼羅河定期氾濫的原因，可能與其上游流經哪一個氣候區有關？ (A)熱帶雨林氣候區 (B)熱帶莽原氣候區 (C)熱帶沙漠氣候區 (D)溫帶地中海型氣候區。



19. 游耕又稱「火耕」，是漠南非洲常見的傳統農作方式，常會引發大面積的野火。附圖為美國太空總署監測七月及一月非洲野火的分布情形。依據野火主要分布的時間及地點判斷，下列何種氣候類型最可能是此一耕作方式主要的分布區之一？ (A)熱帶沙漠氣候 (B)熱帶莽原氣候 (C)溫帶地中海型氣候 (D)高地氣候。



20. 附圖為非洲政區圖，非洲各國家的國界如圖中表示，呈現依經緯線的切割與分布。請問：上述情況的成因為下列何者？ (A)依此劃分國土較為公平 (B)昔日列強未考慮族群與部落的界線 (C)地形區的分布恰好可成為天然國界 (D)現今國界的分布就是古文明的分布。



21. 大玉翻開漠南非洲的農產分布圖，他注意到西部非洲從沿海到內陸的農產由可可轉為棉花栽種，造成兩地農作物的不同，主要是何種地理條件變化所致？ (A)雨季的長短 (B)地勢的高低 (C)迎風、背風的差異 (D)人口的多寡。

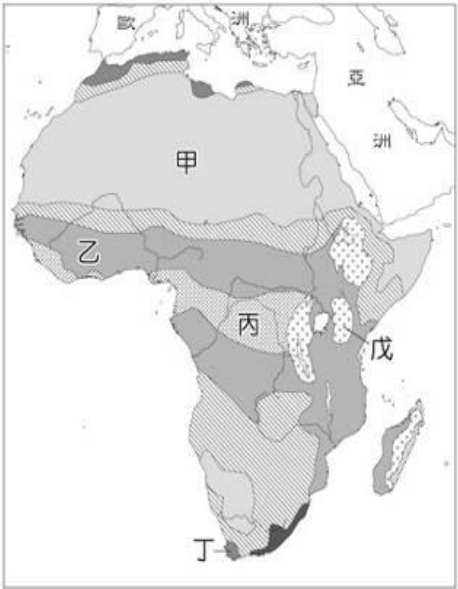
22. 漠南非洲因殖民和氣候條件影響，多半以出口熱帶栽培業為主要經濟來源，但也因此產生經濟發展的問題。(甲)大量栽種單一作物，可避免受國際價格波動影響 (乙)大部分國家都包含從生產、加工到製成商品的技術 (丙)熱帶栽培業需要投入大量勞力 (丁)經濟作物以出口為主，並非當地居民生活所必需。請問：上述何者正確？ (A)甲乙 (B)甲丙 (C)乙丁 (D)丙丁。

23. 西元 2022 年諾貝爾生醫獎得主的帕博(Dr. Svante Pääbo)博士研究發現，智人從非洲遷徙至世界各地，與當時住在歐亞大陸上的尼安德塔人及丹尼索瓦人雜交，發生基因轉移，影響至今。請問：根據遷徙路線圖，智人遷出的地區具有下列何種地形特色？ (A)河川堆積，三角洲廣 (B)海岸曲折，多珊瑚礁 (C)斷層陷落，熔岩堆積 (D)山峰連綿，冰河廣布。

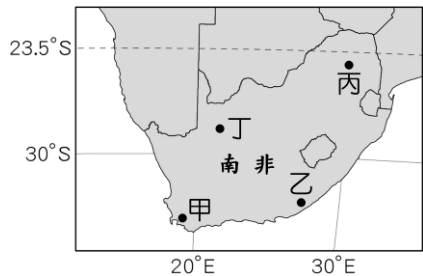


● 題組三：附圖為非洲氣候分區示意圖。請問：

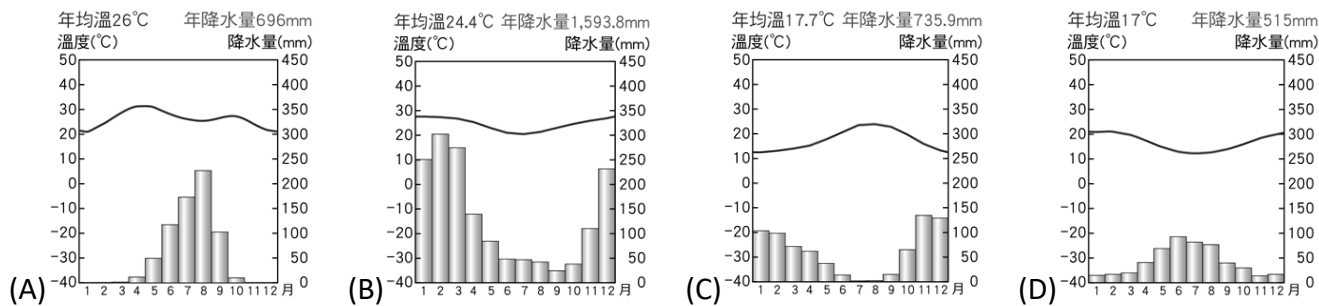
24. ____若利用臺灣暑假時到丁區旅遊，最可能遇到下列哪一種天氣現象？ (A)晴空豔陽 (B)大雪紛飛 (C)細雨綿綿 (D)颶風侵襲。
25. ____圖中丙區與戊區同樣位於赤道附近，但戊區卻集中較多的人口，請問造成此差異的原因為何？ (A)地勢高低 (B)距海遠近 (C)涼流流經與否 (D)植被茂盛與否。



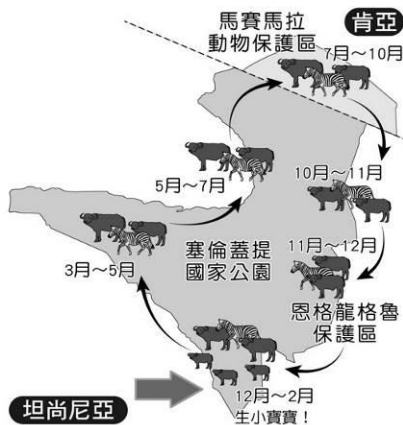
- 題組四：橄欖油可說是近來食品市場的新寵兒，不僅營養價值豐富，用途更是多樣，舉凡料理、護膚、護髮等都可以使用。而南非開普敦在溫暖的陽光下，有著適合橄欖樹生長的氣候條件，即使其大規模栽種橄欖的時間不如西班牙、義大利等國悠久，但仍以精良品質挑戰歐洲數千年的產油歷史。請問：
26. ____南非橄欖油的產地最可能在附圖中哪一地區？(A)甲 (B)乙 (C)丙 (D)丁



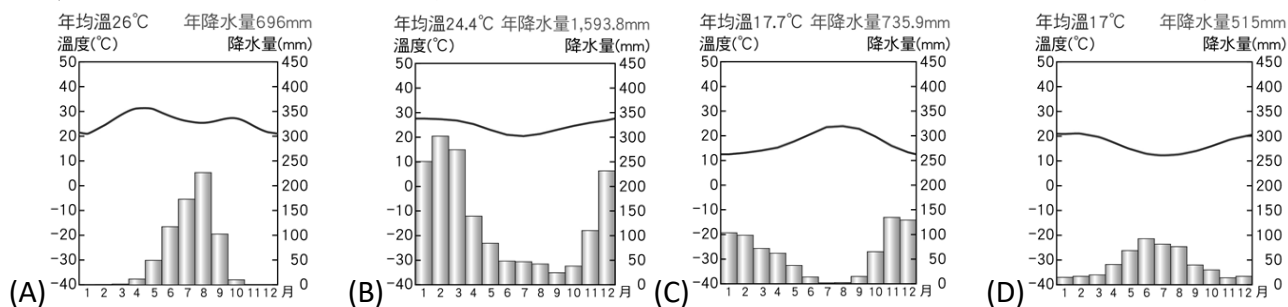
27. ____南非橄欖油產區的氣候環境與列哪一張圖所呈現的特徵最相符？



- 題組五：附圖為非洲氣候分區示意圖。請問：位於赤道附近的塞倫蓋提國家公園和馬賽馬拉國家保護區，是一個跨國界的動物保護區。每年數以百萬計的牛羚和斑馬，為了追隨雨季所帶來的豐沛水草，必須經歷長達三千公里的長征！然而牠們的旅途也並非毫無阻礙，鱷魚、河馬、禿鷹、花豹等肉食動物也隨時對牠們虎視眈眈。因此每年的動物大遷徙，可說是一場適者生存的殘酷舞臺。請問：



28. ____如果有一隻馬賽馬拉保護區的牛羚，因為年邁而無法在10月向南遷徙，則留在原地的下場最可能為下列何者？ (A)被暴漲的溪水沖入大海 (B)凍死在冰天雪地的荒野中 (C)改以動物做為其食物的來源 (D)缺乏水草而活活餓死。
29. ____塞倫蓋提國家公園和馬賽馬拉國家保護區應屬於哪一種氣候類型？ (A)熱帶雨林氣候 (B)熱帶莽原氣候 (C)熱帶沙漠氣候 (D)溫帶地中海型氣候。
30. ____大胖來到塞倫蓋提國家公園的最南方(圖中粗箭頭處)欣賞動物遷徙，則哪一張氣候圖最符合當地的實際情況？



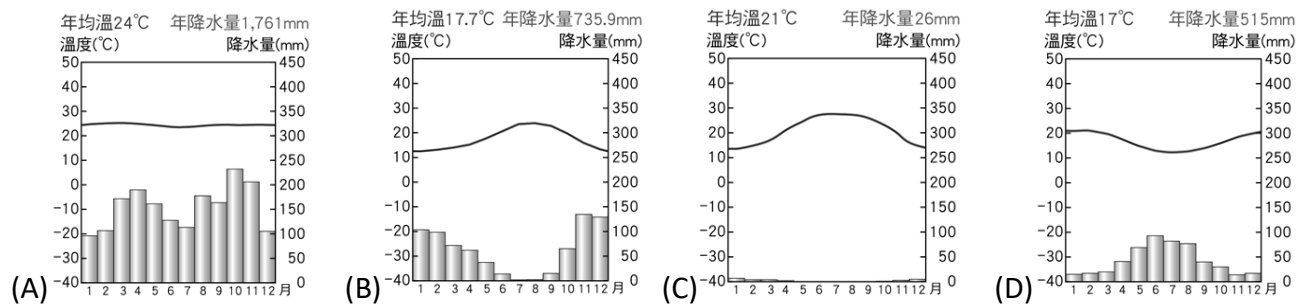
- 題組六：草澤國的軍隊前往非洲進行長時間的移地訓練，他們的訓練紀錄如附表所示：

31. ____草澤國的移地訓練在非洲陸塊的移動方向，最有可能接近附圖中何者？ (A)甲 (B)乙 (C)丙 (D)丁。



	訓練內容
4~6月	伴隨著高溫多雨的氣候以及茂密的叢林，訓練士兵躲藏、游擊戰略術。
6~8月	來到高草原的地區，恰好是當地的乾季，訓練找尋水源及野外求生的能力。
8~10月	來到非洲最宜人的氣候類型之一，雖入春了，但降水量仍多。
10~11月	從非洲陸地搭乘軍艦前往非洲最大島嶼，進行搶灘訓練、兩棲部隊。

32. ____草潔當國的軍隊在 4~6 月訓練時，哪一張氣候圖最接近他們所在的地區？



- 題組七：世界之大，到處都存在著不公平的事實，比如我們喝的每一口咖啡，都是咖啡農被層層剝削的「血汗」咖啡！各位也許不知道，我們喝一杯拿鐵的支出，相當於一個咖啡農 4 天的收入！有鑑於此，「公平貿易咖啡」應運而生。何謂「公平貿易」？公平貿易有三大含義：友善生產者、友善消費者及友善環境。例如：以「合理價格」向生產者收購農產品，禁止使用童工從事生產活動；耕地施作有農藥使用規範及水土保持措施；對消費者而言，我們能清楚知道咖啡的產地，喝得更安心與健康！最後，公平貿易組織也提供「社區發展基金」，因此當你喝下公平貿易咖啡時，你正幫忙咖啡農發展教育、興建醫院、改善飲水設施呢！請問：

33. ____你所喝到的公平貿易咖啡，其標註的產地最可能位於附圖中何處？ (A)甲 (B)乙 (C)丙 (D)丁。

34. ____下列哪一項敘述，最符合公平貿易組織的成立的宗旨？ (A)改善農民生活環境，給予合理報酬 (B)獨占商品生產，提高企業生產利潤 (C)拉攏第三世界，加強殖民的控制力 (D)提升人民經濟收入，達到世界尖端。



35. ____《公職人員選舉罷免法》規範各項公職人員選舉罷免的辦理機關、進行流程以及投票方式等，讓民眾落實法律保障的選舉罷免權。根據上述，下列敘述何者有誤？ (A)該法在落實憲法的參政權 (B)該法屬於行政法 (C)該法的法律位階與憲法相同 (D)該法將憲法的規定具體化。
36. ____為了讓政府順利運作，規範政府執法時不會侵犯人民的權利，因而產生行政法。下列關於行政法的相關敘述，何者正確？ (A)主要強調人民不得干涉政府執法 (B)僅規範人民所需承擔的義務 (C)涉及行政機關的行政行為 (D)僅概括性規定人民的權利。
37. ____某高中學生認為，學校為了公布訊息就集合所有學生開朝會，此舉太沒效率而拒絕參加，卻因此被校方記警告。該名高中學生對此不服，向教育部提起○○，不服結果，再提起□□。最終，敗訴確定。○○與□□應分別填入下列何者？ (A)請願、行政訴訟 (B)遊說、民事訴訟 (C)訴願、行政訴訟 (D)罰鍰、刑事訴訟。
38. ____行政法又稱為「活的憲法」，因為憲法對於人民權利的保障只是概括性的規定，需要藉由行政法的補充，才能將國家機關的組織與職權，以及人民權利義務的規範具體化，並藉以要求政府依法行政，才能避免政府濫權並確實保障人民的權益。下列何者最符合上述的意涵？ (A)行政行為必須有法律的依據或授權 (B)行政機關應制定法律作為職權依據 (C)行政機關以命令限制立法機關作為 (D)行政機關應以命令修正憲法的規定。
39. ____近年來我國兒童及少年犯罪率居高不下，為改善此現象，下列何種方式較為適當？ (A)修法加重兒少的刑罰 (B)降低應負刑責的年齡 (C)加強法治教育的推廣 (D)增設少年監獄。
40. ____警方查獲 16 歲的青青從事性交易，此時應依下列何種法律來給予青青保護安置？ (A)《兒童及少年福利與權益保障法》 (B)《性別平等教育法》 (C)《家庭暴力防治法》 (D)《兒童及少年性剝削防制條例》。
41. ____行政法除了規範政府的行為之外，每個人從出生到死亡，許多行為也都會涉及行政法的適用，下列何者並非「應適用行政法」的事件？ (A)駕駛人擅闖紅燈而被交通警察開罰 (B)戀愛多年的情侶決定結婚共組家庭 (C)小華為剛出生的孩子辦理出生登記 (D)小蘭年滿 12 歲就讀學區之內的國中。
42. ____根據《警察職權行使法》第 8 條第 1 項：「警察對於已發生危害或依客觀合理判斷易生危害之交通工具，得予以攔停並採行下列措施……。三、要求駕駛人接受酒精濃度測試之檢定。」下列有關該法條之敘述何者正確？ (A)警察可以自行決定遵守的法律範圍 (B)上述法源僅供警方參考，可彈性運用 (C)警察任何時候皆須逐一檢測駕駛有無酒駕 (D)警察在執行勤務時，必須要有法源依據。
43. ____新北市小衛星單位深入社區提供課後輔導與照顧服務，給予孩童更多的愛與發展機會，彌補原生家庭的不足，為社會中的脆弱家庭帶來極大的正向力量。從上述內容可以看出，小衛星單位推動的工作應與下列何者最為相關？ (A)《家庭暴力防治法》 (B)《勞動基準法》 (C)《兒童及少年福利與權益保障法》 (D)《兒童及少年性剝削防制條例》。
44. ____阿福是剛滿 15 歲的社會新鮮人，在附近的加油站打工。下列有關其工作契約的內容，何者違法？ (A)每日排班 10 排班 10 小時 (B)提供在職進修的機會 (C)須得到法定代理人同意 (D)每週 3 天白天班；每日工作 8 小時。

45. ____《兒童及少年福利與權益保障法》第 41 條規定，為確保兒童及少年之遊戲及休閒權利，促進其身心健康，除法律另有規定外，高級中等以下學校學生每週學習節數，應依中央教育主管機關訂定之課程綱要規定。上述規定主要在落實《兒童權利公約》的哪一項原則？ (A)不歧視 (B)尊重兒童意見 (C)保障兒童生存發展權 (D)維護兒童最佳利益。
46. ____下列哪一種行為與《兒童及少年福利與權益保障法》中的「福利措施」有關？ (A)老闆給予童工法定時薪保障 (B)遊樂場所提供兒童相關優惠 (C)夜店檢查證件禁止少年進入 (D)商店老闆拒絕賣菸給國中生。
47. ____國中九年級學生李大偉現年 15 歲，經常到玩具店觀看假面騎士的模型。某天，他將模型偷偷放入書包中，被店員當場發現，報警處理。下列關於李大偉行為的敘述，何者正確？ (A)觸犯《刑法》的強盜罪 (B)可能會被處以有期徒刑 (C)可能會被處以罰鍰 (D)可能會被依少年保護事件處理。
48. ____環保署規定連鎖飲料店、超商、超市、速食店，對於自備杯子買飲料的消費者，至少須提供 5 元折扣。某一間連鎖飲料業者卻表示，提供自備杯 5 元折扣，但還要另外多收 5 元的服務費。事件曝光後，該店遭到環保局開罰 1,200 元。對於此事件的分析，下列敘述何者正確？ (A)環保署的規定屬於行政罰 (B)環保局對業者做出行政處分 (C)業者受到處罰是因為未依法行政 (D)開罰金額包含了對消費者的賠償。
49. ____依據《營養師法》規定，須經過營養師考試及格，請領營養師證書，送請中央主管機關審核後，才可擔任營養師一職。因此，一般的健身教練若針對學員的飲食，提供客製化菜單及營養品攝取，作為業務的一部分，不僅可能存在專業度不足、忽略學員個人狀況的風險，也有可能受到法律處罰。針對上述內容的分析何者正確？ (A)涉及政府的行政管制 (B)目的在規範私人間的交易 (C)只會對人民產生不利結果 (D)採取的處罰方式是有期徒刑。
50. ____小剛買了一些除蚤藥替小貓除蚤，但後來小貓走丟了，於是他將未使用完的除蚤藥放上網路出售，沒想到縣政府以違反《動物用藥品管理法》為由，對小剛開出九萬元的罰單。上述小剛承擔的法律責任，其性質與下列何者相同？ (A)網路賣家拒絕退換售出的瑕疵商品 (B)曉華屢次虐待動物遭處以有期徒刑 (C)快遞公司未依契約規定時間送貨到府 (D)餐廳因消防檢查不合規定遭停止營業。

完成後別忘了檢查喔!!

給即將升上九年級的自己按一個👍

