

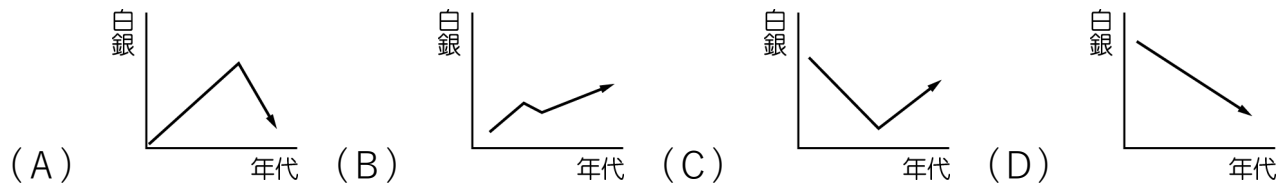
桃園市立草漯國民中學 112 學年度第 1 學期 8 年級第 3 次段考社會科試題卷

一、選擇題

班級： 座號： 姓名：

- 1.____ 林樂知為晚清時來到中國的傳教士，他在中國傳教 47 年，將畢生奉獻給中國。在傳教期間，他曾主編《教會新報》，希望大眾能接受基督教義，後來發現結合時事、新知，報紙的銷路會更好，所以改發行《萬國公報》，果然獲得廣大新知識分子迴響。請問：下列何者較不可能出現在這份刊物上？
(A)介紹裹腳的歷史，提倡纏足 (B)甲午戰爭想像圖 (C)日俄戰爭的意見投書 (D)介紹民主思潮。
- 2.____ 清末一連串的變革，代表中國人在西力衝擊下的反應。賴小妹讀完此段歷史後，整理出變革的歷程如下：(甲)→戊戌變法；(乙)→立憲運動。請問：(甲)、(乙)應分別填入何事？
(A)鴉片戰爭、英法聯軍 (B)英法聯軍、八國聯軍
(C)英法聯軍、甲午戰爭 (D)甲午戰爭、日俄戰爭。
- 3.____ 鴉片戰爭後，中國與英國所簽訂的不平等條約中，喪失許多主權，其中不包括哪一項？
(A)協定關稅(B)得在通商口岸設廠製造(C)享有領事裁判權(D)享有片面最惠國待遇。
- 4.____ 日本維新的倡導者福澤諭吉曾批評中國的自強運動，認為中國社會就像一潭死水，既沒有活水流入也沒有水流出。風吹來的時候只是泛起漣漪又消失無蹤。請問：按照內文，風指的是自強運動，下列何者不屬於漣漪？
(A)開設鐵路 (B)設立兵工廠 (C)招募新式軍隊 (D)廢除科舉考試。
- 5.____ 中國有一句話說「二十年看深圳、百年看上海。」在上海可以看到各式西洋建築，迥異於中國其他城市。請問：在上海可以看到異國風貌建築的原因為下列何者？
(A)清帝國改革時由政府主持大量興建異國建築 (B)有志之士在此推動明治維新
(C)盛清時為外國商人聚集之地 (D)鴉片戰爭後上海成為通商口岸。
- 6.____ 「西元 1895 年是決定臺灣命運的一年……3 月 20 日，位於日本本州島西方的一個以賣河豚聞名的日本料理店『春帆樓』，成為全世界注目的焦點。這天，清帝國的李鴻章和日本的伊藤博文在此展開停戰談判。」根據上文提及的史實對往後歷史發展的影響不包括下列何者？
(A)割讓臺、澎給日本 (B)引發臺灣民主國的抗日
(C)中國掀起維新運動 (D)喪失領事裁判權。
- 7.____ 北京是中國的「四大古都」之一，歷史上有四個朝代在此定都，但清代時，在下列哪一次戰役中首次被西方國家以武力入侵？
(A)鴉片戰爭 (B)甲午戰爭 (C)八國聯軍 (D)英法聯軍。
- 8.____ 中日兩國都曾經閉關自守（鎖國）過，後來也都因著列強武力的威脅和侵逼而被迫開港通商。請問：關於中日這方面的歷史，下列的比較說明，何者敘述錯誤？
(A)英國首先打開中國的門戶，而美國首先打開日本的門戶 (B)兩國被迫打開門戶的時間都是發生在 19 世紀中期左右 (C)兩國在外力的衝擊之下開港通商後均立即展開了變法圖強的改革 (D)中國第一個改革自強運動，比日本明治維新的改革時間要早。

9. 下列哪一個趨勢圖，最足以顯示明代後期至清代道光年間，白銀在中國的流通變化？



10. 甲午戰爭後的這場改革，其實已經突破過去三十年純以器物為調的表面敷衍，但終究還是以失敗告終，中國想要圖強，必須從更根本的思想層面做革新才行。請問：這場改革所指為何？

(A) 自強運動 (B) 百日維新 (C) 戊戌政變 (D) 庚子後新政。

● 下列是有關圓明園遭到破壞的部分文獻資料——

資料一：「這些宮殿非常龐大，由於我們必須在限定時間內完成任務，使我們無法澈底地掠奪。」

資料二：「最近夷人遍布在城內，任意進出皇宮，到處搶劫財物，汗辱婦女，殺傷民眾，無法無天。」

資料三：「圓明園的焚掠，在人類文化史上的損失是無法估計的，不但毀滅了世上獨一無二的名園，而且損失了中國歷代珍藏下來的文物。」

資料四：「我們號稱自己是文明人，認為中國人是野蠻人；這就是文明人對野蠻人所幹的好事！」

11. 上述事件發生在下列哪一場戰爭期間？

(A) 鴉片戰爭 (B) 英法聯軍 (C) 甲午戰爭 (D) 八國聯軍。

12. 對上述資料的詮釋，下列何者最合理？

(A) 資料一是防守宮殿的清軍將領的日記 (B) 資料二是當時駐北京英國使節的記載
(C) 資料三是後人對這段歷史的批判省思 (D) 資料四是西方帝國主義者侵略的藉口。

● 在「救亡圖存」的認識下，晚清各階層人民開始各種救國運動。請問：

13. 「痛恨大毛子，仇視二毛子，無洋不反，凡外皆仇。」這是哪一團體提出的救國運動？

(A) 興中會 (B) 義和團 (C) 天地會 (D) 同盟會。

14. 光緒年間，有哪些人物主持「百日維新」，以求圖強？(甲)林則徐(乙)康有為(丙)曾國藩

(丁)梁啟超 (A) 甲乙 (B) 乙丙 (C) 乙丁 (D) 丙丁。

● 西元 19 世紀中期前，中、日兩國同是閉關自守的局面，經外力的衝擊，各自展開救亡圖存的運動，結果兩國命運有天壤之別。請問：

15. 中國的門戶洞開，是始於何國？經由何戰役造成的？

(A) 英，鴉片戰爭 (B) 日，甲午戰爭 (C) 法，清法戰爭 (D) 英、法，英法聯軍。

16. 日本經維新之後成為對外侵略性強國，其向外擴展路線依序為何？

(A) 併琉球→犯臺灣→取朝鮮 (B) 併琉球→取朝鮮→犯臺灣
(C) 取朝鮮→併琉球→犯臺灣 (D) 犯臺灣→併琉球→取朝鮮。

17. 中、日兩國二、三十年的銳意西化，在何次戰役中，印證效果：前者有限，後者成功？

(A) 鴉片戰爭 (B) 英法聯軍 (C) 甲午戰爭 (D) 八國聯軍。

● 右圖為東北亞位置示意圖，請根據圖片提示，回答下列各題：

18.____ 請選出環繞東北亞地區的四大板塊。

- (A) 甲-歐亞板塊 乙-日本板塊 丙-太平洋板塊 丁-菲律賓海板塊
- (B) 甲-歐亞板塊 乙-北美板塊 丙-太平洋板塊 丁-菲律賓海板塊
- (C) 甲-印澳板塊 乙-日本板塊 丙-北美板塊 丁-南極板塊
- (D) 甲-印澳板塊 乙-北美板塊 丙-南美板塊 丁-南極板塊



19.____ 從圖中所提供的資訊，可判斷下列哪一件事實為真？

- (A) 朝鮮半島的高山，比日本群島更高聳
- (B) 日本群島的經濟發展，比朝鮮半島更繁榮
- (C) 朝鮮半島的平原，比日本群島更寬闊
- (D) 日本群島的地震頻率，比朝鮮半島更頻繁

● 日本除了是經濟與科技強國外，該國第一級產業同樣受世界矚目。過去受限於平原面積狹小，使日本人高度依賴從海洋獲取資源。龐大的海鮮消費量，與鄰近重要漁場，使壽司、刺身等多樣的米食/生食文化，幾乎成為日本飲食文化的代名詞。(刺身, sashimi: 生魚片)。農業生產方面，產量雖然有限，但量少質精，並透過品牌形象的建立與行銷，不斷提高農產品的附加價值，即使產品價格偏高，在國際市場上仍有高度的競爭力

20.____ 日本農業發展，走向產量少但質量佳的精緻農業路線，主要與日本農業環境的哪一項特色有關？

- (A) 土壤貧瘠
- (B) 成本較高
- (C) 技術缺乏
- (D) 地廣人稀

21.____ 日本發展出鮮明的海鮮文化，與下列哪一項地理事實較無關聯

- (A) 山多平原少
- (B) 珊瑚礁地形發達
- (C) 四周環海
- (D) 寒、暖流交會

● 右圖為日本群島的氣候分類圖，圖中兩箭頭，為此區季風風向的示意圖

22.____ 找出圖中1a 1b 1c等區域，從分佈的位置判斷，這三個區域在氣候上應該具備哪一項共通性？

- (A) 夏季多雨
- (B) 冬季多雪
- (C) 降水不足
- (D) 氣候嚴寒

23.____ 從位置與季風的風向判斷，圖中哪個區域，降水的季節分佈，與台灣的嘉南平原較為相似？

- (A) 1c
- (B) 2
- (C) 3
- (D) 4

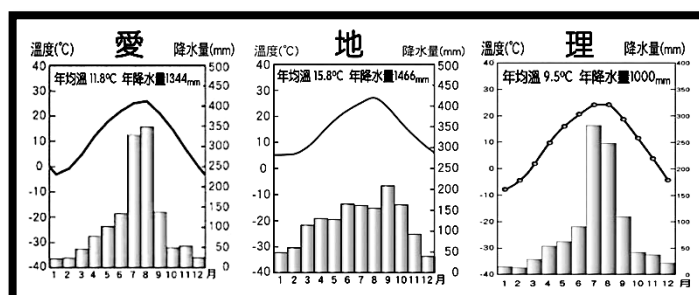


● 「愛」、「地」、「理」三地，為東北亞三國首都，附圖為東北亞國家位置示意圖，與前述首都的氣候降水資料，請根據圖中資訊判斷並回答問題。

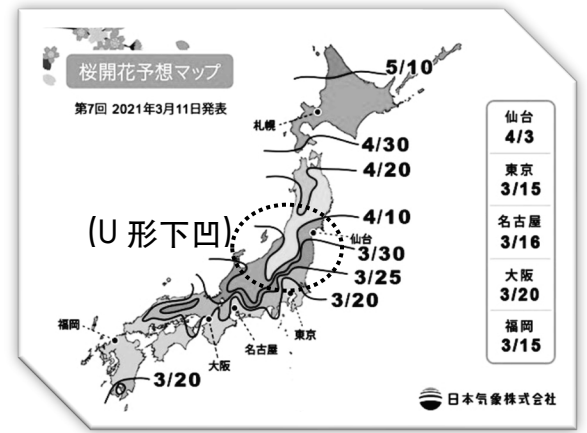
24.____ 判讀圖中資訊，在「愛、地、理」三都市當中，請選出年溫差最大的都市。

- (A) 愛
- (B) 地
- (C) 理。

25.____ 請參閱地圖與氣候資料，比較三地氣候條件，並判斷出哪一張圖，是日本首都東京的氣候資料。



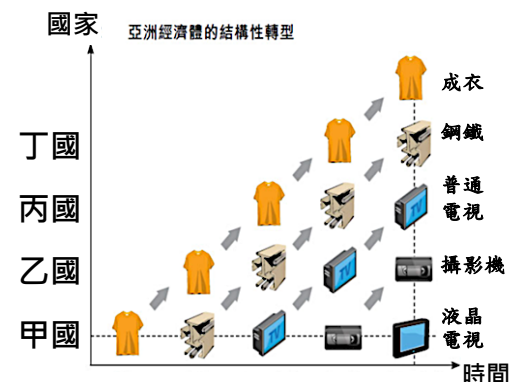
- 為服務喜愛賞櫻的日本人與遊客，日本氣象廳每年都會發布「櫻前線預報圖」。預告櫻花季的起迄時間，也便利旅客安排行程。



26. 觀察右圖，找出影響櫻花開花時間早晚的地理要素
- (A) 梅雨鋒面 (B) 距海遠近
(C) 地形起伏 (D) 緯度高低

27. 圖中的界線，大多呈現 U 形向下凹入，可能是受到什麼地理環境的影響？
- (A) 地形 (B) 緯度 (C) 降水 (D) 風向

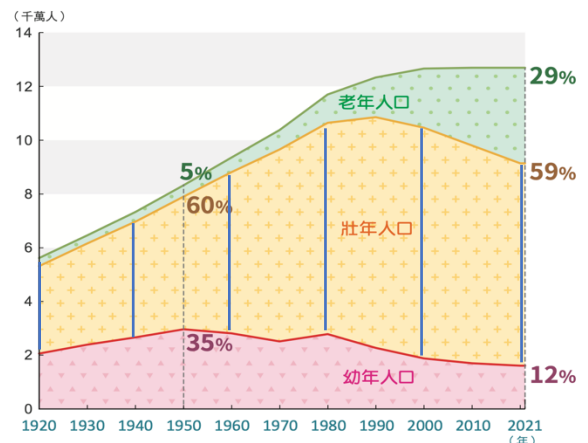
- 右圖是亞洲國家產業轉型過程的示意圖，圖案代表成衣業、鋼鐵業等不同產業：



28. 觀察橫軸的變化，亞洲國家的工業大致遵循怎麼樣的發展順序？
- (A) 輕工業 → 重工業 → 科技工業
(B) 科技工業 → 輕工業 → 重工業
(C) 重工業 → 科技工業 → 輕工業
(D) 輕工業 → 科技工業 → 重工業

29. 圖中的箭頭 代表一項產業在不同國家發展的足跡，請問用下列哪一句話來描述這種現象最為貼切？
- (A) 產業外移了 (B) 產業升級了 (C) 產業倒閉了 (D) 產業消失了

- 右圖為日本年齡結構變化圖，年齡結構可反映了一國勞動力的變化，透過數據的研讀有時也可以反映不同的社會現象與問題。



30. 根據右圖資料顯示 1940~2000 年之間，日本的勞動力呈現什麼樣的變化趨勢？
- (A) 持續增加 (B) 持續減少
(C) 先增後減 (D) 先減後增

31. 根據右圖的變化趨勢，日本勞力密集型的產業，如：紡織、成衣業等，最有可能採取什麼樣的對應措施？
- (A) 擴大生產規模 (B) 將工廠移至國外 (C) 專注於研發設計 (D) 先減後增

- 文化相近的朝鮮與韓國，在韓戰過後，經濟發展卻天差地遠：戰前的鋼鐵強國北韓，戰後至今卻低於聯合國定義的貧窮線下；戰前還是農業經濟的南韓，目前已躋身已開發國家之列。

32. 從北韓發展的產業類別判斷，該國在下列哪一種區位類別中較有優勢。
- (A) 原料區位 (B) 市場區位 (C) 交通區位 (D) 動力區位

33. 一位韓國大叔曾隨著韓國的經濟發展，在不同時期從事當時最熱門的工作，分別是：
- ① 鋼鐵廠的學徒 / ② 紡織廠的作業員 / ③ 手機工廠的裝配員
- 請問若按大叔的年齡排列，他從年輕至今，依序擔任哪些職務？
- (A) ①②③ (B) ②①③ (C) ③①② (D) ③①②

- 34.____ 韓國前十大企業，貢獻了 3%的就業率與 75%的生產總值，請問，從前文的敘述中可推斷出下列哪一個社會現象？
(A) 城鄉差距大 (B) 貧富差距大 (C) 失業率偏高 (D) 生產力不足
- 35.____ 權力分立為民主國家的基本原則，而其中又有水平分權以及垂直分權，是為將不同權力各自獨立進而達成權力制衡。請問：下列何種組合可能出現於「水平分權」中？
(A) 行政權、立法權 (B) 訴訟權、平等權 (C) 考試權、教育權 (D) 自由權、參政權。
- 36.____ 我國中央政府與地方政府，會依照事務性質進而將全國統一之事項屬中央管理，而因地制宜的事項屬地方管理。請問：我國中央政府與地方政府的分權方式不包含以下何種？
(A) 均權制 (B) 水平分權 (C) 中立分權 (D) 垂直分權。
- 37.____ 我國為民主國家每四年即會有乙次地方首長以及地方民意代表的選舉，凡我國 20 歲之國民即能享有《憲法》所保障的參政權，而該如何落實公平投票更為其中之重點。請問：落實公平投票需要下列哪些原則的落實？
(A) 普通原則 (B) 以上皆是 (C) 無記名原則 (D) 平等原則。
- 38.____ 公民投票法是為了落實我國《憲法》保障的創制權與複決權，使人民能夠參與公共政策與法案制定。請問：關於我國公民投票的投票資格，必須年滿多少方能投票？
(A) 自出生起 240 個月 (B) 16 歲 (C) 自出生起 216 個月 (D) 20 歲。
- 39.____ 802 的黃金鱒同學在書寫題目上遇到了困難，請各位八年級的同學協助金鱒同學找到正確的答案。請問：下列哪一個市的位階與其他三者不相同？
(A) 臺南市 (B) 新竹市 (C) 嘉義市 (D) 基隆市。
- 40.____ 接續上一題，在大家那麼有同學愛地協助了金鱒同學順利的度過前一道難題後，請大家再次協助金鱒同學，在以下城市位階的配對組合中，找出位階相同的答案。
(A) 臺中市、新竹市 (B) 嘉義市、高雄市 (C) 桃園市、臺北市 (D) 基隆市、新北市。
- 41.____ 我國地方政府的行政劃分有分為，直轄市、縣(市)作為地方最高的行政單位，其分別有各自對應的下層行政單位。請問：下列何者地方行政單位的配對並非為不正確的？
(A) 臺北市-信義區-興雅市 (B) 桃園縣-觀音鄉-草漯村
(C) 桃園市-觀音鄉-草漯區 (D) 新北市-汐止鎮-仁德里。
- 42.____ 政治是指管理眾人之事，每個國民在滿法定年齡後即可享有《憲法》保障的參政權，參政權中又有分為選舉、罷免、創制、複決，不同權利分別所需要的年齡亦有所不同，請問：下列哪一個選項的年齡要求與其他三者不相同？
(A) 五條悟：我預計兩年後要參加立法委員的選舉。 (B) 夏油傑：我今年為某分區的直轄市議員候選人。
(C) 虎杖：這是我第一次參與直轄市長的投票，一想到就好緊張。 (D) 伏黑：這次連任已經是我第三次連任里長的職位了。
- 43.____ 侑豐的爸爸在 2024 年 1 月 13 日會去履行他的公民權利，將在總統與立法委員的選舉中投下決定國家未來走向的神聖一票。請問：他將於此次選舉中投下幾張選票呢？
(A) 3 張 (B) 2 張 (C) 4 張 (D) 5 張。
- 44.____ 立法院為我國最高立法機關，立法委員皆是由人民選舉投票產生的，而立法委員總人數為 113 人。請問：關於立法委員產生方式之敘述下列何者正確？
(A) 於票選縣市首長該年進行投票 (B) 原住民票+區域立委
(C) 區域立委+政黨票 (D) 政黨票是指政黨提名直接就任。

- 45.____ 幾名同學在進行公民課後的聊天與討論，就其中所述內容來看，下列哪位同學的選擇最不正確？
- (A)靜柔：我國中央與地方政府在權限劃分上採均權制，如遇權限爭議則由立法院處理。
 - (B)祐瑞：我國目前共有 6 個直轄市跟 16 個縣
 - (C)勇俊：直轄市中的區長是由是市長依法任免的，並非人民投票產生的。
 - (D)鄉綺：地方政府僅有行政權與立法權，並無考試權與監察權。
- 46.____ 我國《憲法》保障，凡我國國民年滿 18 歲即能享有公民投票的權利，請問關於公民投票的流程或是敘述下列何者為非。？
- (A)若同意票未達投票權人數 1/4 即無法通過
 - (B)若此議題未能順利通過，必須待兩年後方能再次提出
 - (C)公民投票的議題經過人民連署完成後即可去市府進行提案
 - (D)公民投票的流程：提案-連署-公告-投票
- 47.____ 四個班級的同學在討論《憲法》所保障參政權。請問：哪個班級的說法為正確？
- (A)802：具有中華民國國籍者，需年滿 20 歲以上，並設籍該選區達四個月以上，即使受到褫奪公權，亦能有該選區的投票權。
 - (B)806：具有中華民國國籍者，需年滿 20 歲以上，並設籍該選區達六個月以上方能有該選區投票權
 - (C)805：具有中華民國國籍者，需年滿 20 歲以上，並設籍該選區達六個月以上方能有公投的投票權
 - (D)803：具有中華民國國籍者，需年滿 20 歲以上，並設籍該選區達四個月以上，即使受到監護宣告，亦能有該選區的投票權。
- 48.____ 我國對於不同民選公職人員之年齡分別有不同的限制，請就題目找出錯誤的答案。
- (A)總統 40 歲、副總統 40 歲
 - (B)立法院長 23 歲、立法委員 23 歲
 - (C)總統 45 歲、副總統 40 歲
 - (D)鄉長 26 歲、直轄市山地原住民區長 26 歲。
- 49.____ 關於我國地方政府的敘述下列哪些選項為不正確的。甲:臺灣省政府已於 1997 年修憲後遭到虛級化。乙:我國共有 21 個行政區，其中包含 6 個直轄市、13 個縣、3 個市。丙:地方立法機關負責推動地方自治工作並執行上級委辦事項。丁:地方立法機關包含議會、鄉(鎮、市)民代表會與直轄市山地原住民代表會。
- (A)甲乙丙
 - (B)乙丙丁
 - (C)甲乙丙丁
 - (D)甲乙丁。
- 50.____ 地方行政機關負責推動地方自治，請問:下列哪個選項非屬於地方行政機關或是地方立法機關之敘述？
- (A)該縣(市)所通過的自治條例僅供該地區作使用，外縣(市)並不適用
 - (B)議會負責審理地方政府之預算規劃
 - (C)颱風屬中央氣象局所發布，所以颱風天放假與否為中央所掌管
 - (D)地方政府執掌地方的安全衛生、教育文化、社會福利以及經濟發展。